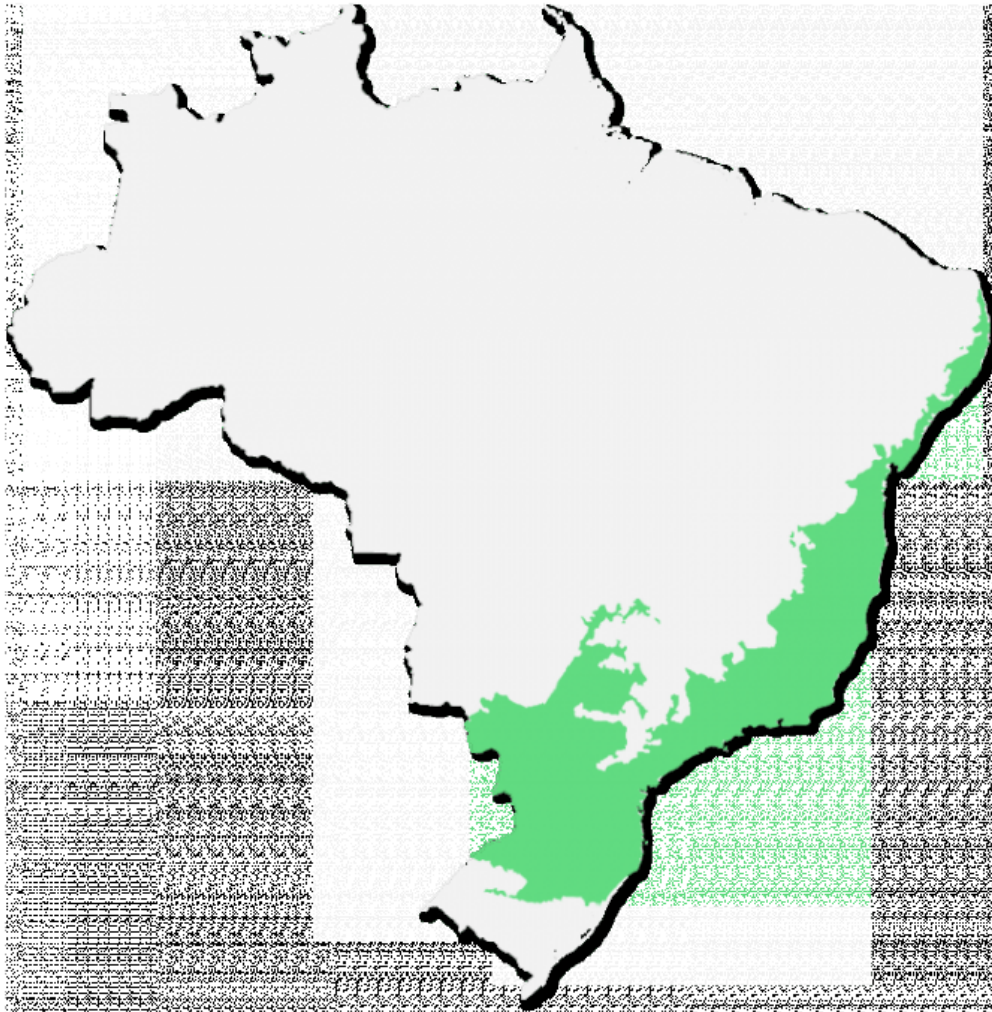




2-

Observe o mapa a seguir:



Fonte: Orthoptera (2023)

De acordo com a área destacada no mapa acima, é correto afirmar que:

Peso: 1.02

- |   |  |
|---|--|
| ( <input checked="" type="checkbox"/> A ) | Apresenta predominantemente floresta ombrófila, com árvores de grande porte, também é rica em espécies endêmicas.                                  |
| ( B )                                     | Apresenta árvores altas e uma enorme quantidade de espécies de plantas e animais, sendo considerado o bioma mais rico em biodiversidade do Brasil. |
| ( C )                                     | Apresenta um elevado percentual de espécies vegetais exóticas além de predominância de vegetação xerófila.   |
| ( D )                                     | Apresenta vegetação predominantemente típica de savanas, historicamente tem sido bastante devastada.   |
| ( E )                                     | Apresenta vegetação adaptada a solos secos e pedregosos, além de muitas espécies endêmicas.  |

Climatologia

3- Observe o mapa a seguir:

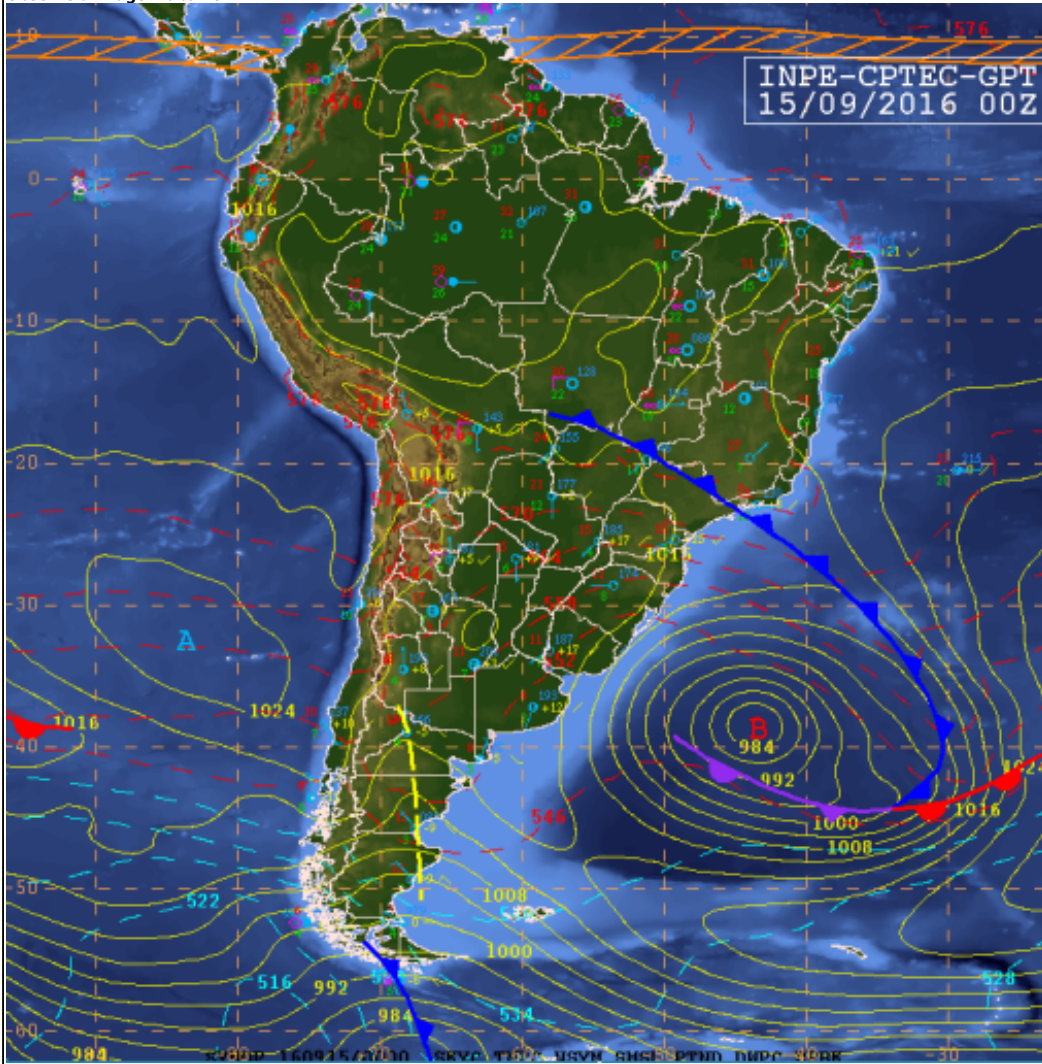


Fonte: Adaptado de: Google imagens (2023).  
 A partir da análise do mapa e dos seus conhecimentos sobre classificação climática, pode-se inferir que o tipo climático em destaque no mapa (círculo vermelho) apresenta as seguintes características:

Peso: 1.03

(A)	Clima quente de deserto.
(B)	Clima frio de deserto.
(C)	Clima seco de savana.
(✓ D)	Clima quente de estepe.
(E)	Clima frio de estepe.

4- Observe a imagem abaixo:



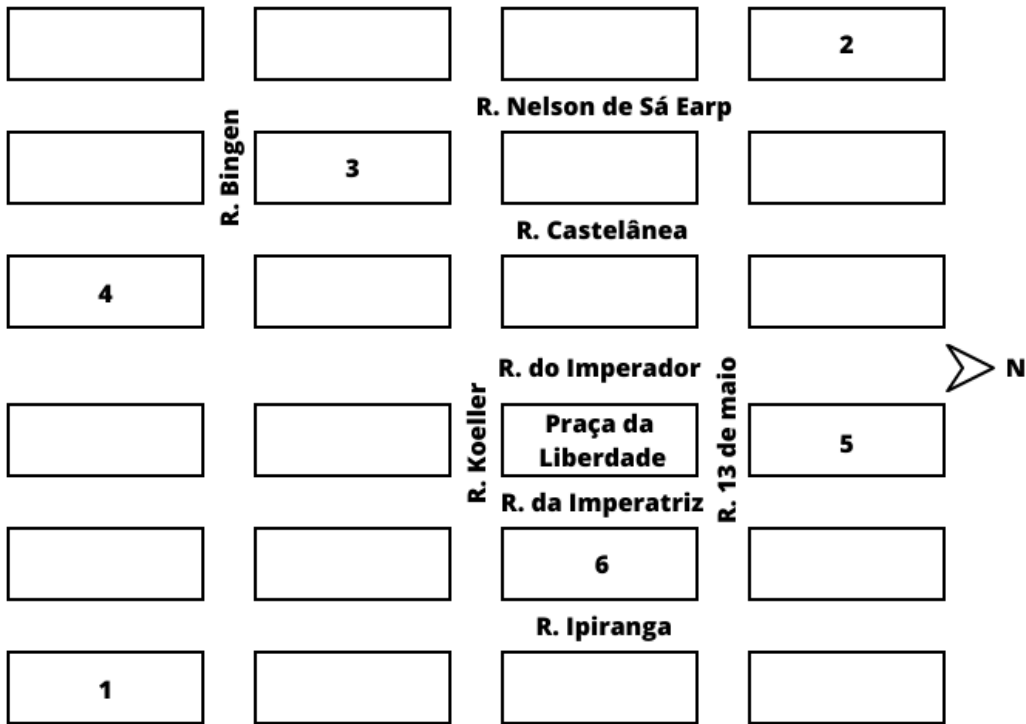
Na imagem, é possível observar:

Peso: 1.04

- |         |  |
|---------|--|
| ( ✓ A ) | Ciclone extratropical (baixa pressão); Frente fria; Frente quente; Frente oclusa; Zona de Convergência Intertropical (ZCIT); Alta Subtropical do Pacífico Sul (alta pressão).        |
| ( B )   | Ciclone intertropical (alta pressão); Frente fria; Frente quente; Zona de Convergência do Atlântico Sul (ZCAS); Baixa Subtropical do Pacífico Sul (baixa pressão).                   |
| ( C )   | Ciclone intertropical (alta pressão); Frente fria; Frente quente; Frente estacionária; Zona de Convergência do Pacífico Sul (ZCPS); Alta Subtropical do Pacífico Sul (alta pressão). |
| ( D )   | Ciclone intertropical (alta pressão); Frente quente; Frente estacionária; Zona de Convergência de Umidade (ZCOU); Baixa Subtropical do Pacífico Sul (baixa pressão).                 |
| ( E )   | Ciclone extratropical (baixa pressão); Frente quente; Frente oclusa; Zona de Convergência do Índico Sul (ZCIS); Alta Subtropical do Pacífico Sul (alta pressão).                     |

Cartografia

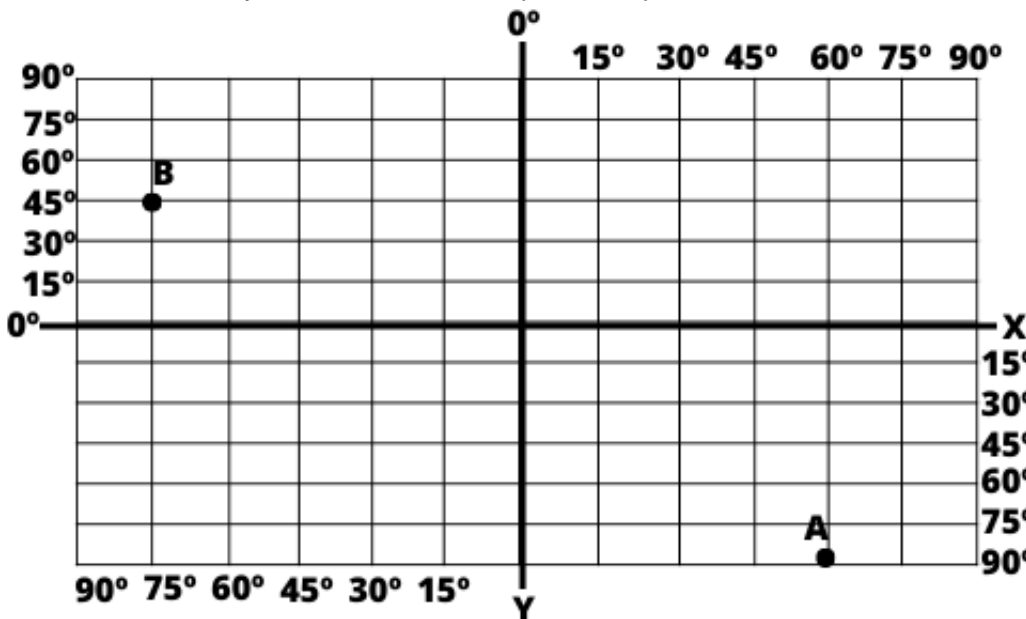
5- Conforme a imagem abaixo, suponha que você está localizado no ponto 1 e anda para o norte 2 blocos, vira para oeste 3 blocos e se dirige para sul 2 blocos. Com base nessas orientações, em qual bloco ou próximo de qual bloco você estará?



Peso: 1.05

(A)	3
(B)	6
(C)	5
(✓ D)	4
(E)	2

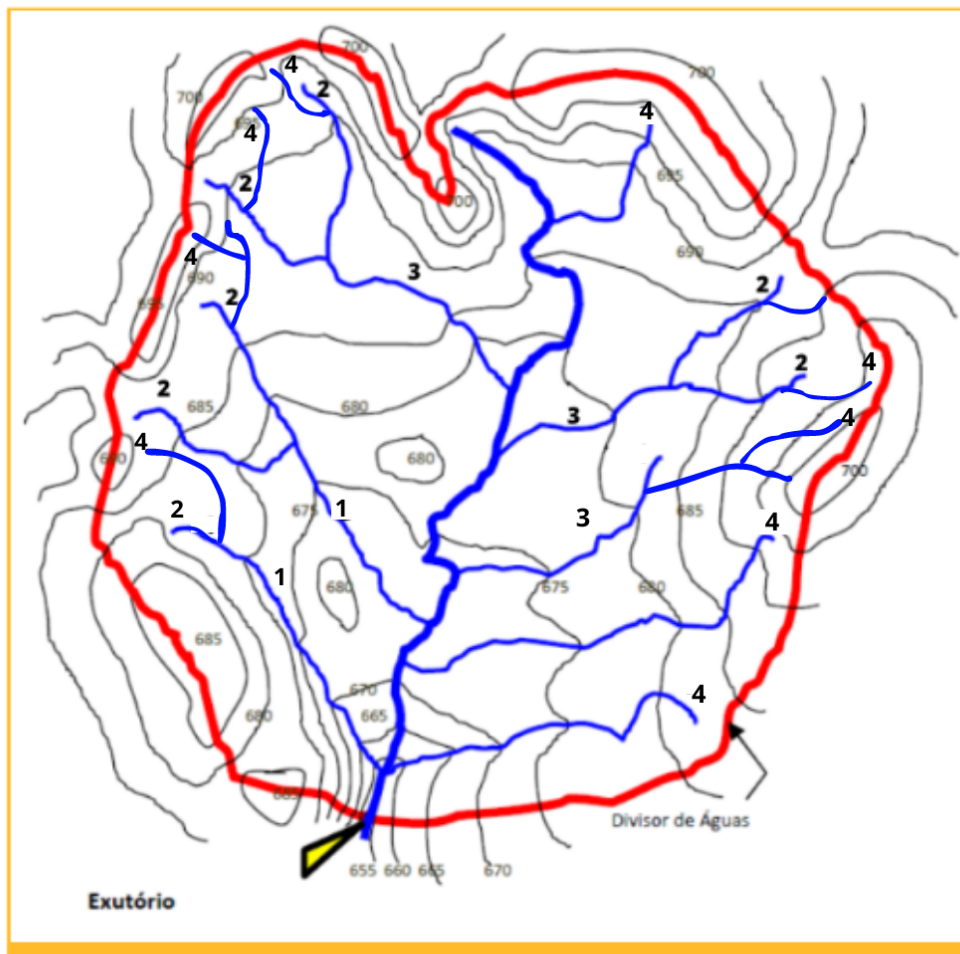
6- Considere o gráfico abaixo em que o eixo X representa a Linha do Equador e o eixo Y representa o Meridiano de Greenwich. No ponto A deste gráfico, são 05 horas da manhã do dia 20 de junho de 2023. Que horas são e que dia são no ponto B?



Peso: 1.06	
( A )	20h da noite do dia 19 de junho de 2023.
( B )	20h da noite do dia 20 de junho de 2023.
( C )	8h da manhã do dia 19 de junho de 2023.
( D )	8h da manhã do dia 20 de junho de 2023.
( E )	Nenhuma das alternativas estão corretas.

**Hidrologia/ Geomorfologia Fluvial**

7- A hierarquia fluvial é essencial para entender a estrutura e a dinâmica das bacias hidrográficas. Ela desempenha um papel fundamental na gestão dos recursos hídricos, pois permite identificar áreas-chave de captação de água, análise de impactos ambientais, planejamento de obras hidráulicas e estudos de cheias e secas. Indique a classificação hierárquica dos rios, conforme a imagem abaixo:



Fonte: adaptado de Sperling (2007).

Peso: 1.07	
( A )	1 = primeira ordem; 2 = segunda ordem; 3 = terceira ordem; 4 = quarta ordem.
( B )	1 = segunda ordem; 2 = primeira ordem; 3 = terceira ordem; 4 = primeira ordem.
( C )	1 = terceira ordem; 2 = segunda ordem; 3 = primeira ordem; 4 = quarta ordem.
( D )	1 = terceira ordem; 2 = primeira ordem; 3 = terceira ordem; 4 = segunda ordem.
( E )	1 = segunda ordem; 2 = terceira ordem; 3 = primeira ordem; 4 = primeira ordem.



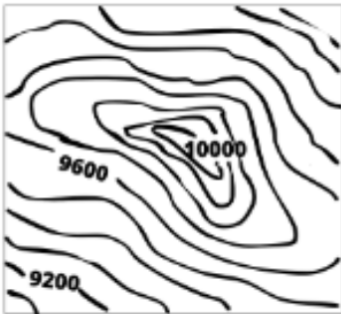


8- Analise a imagem abaixo e indique a curva de nível correspondente ao relevo representado:

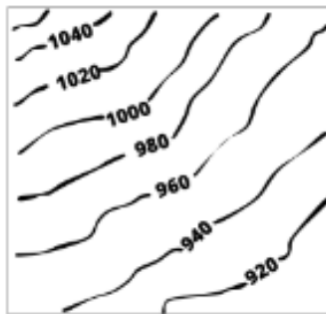


Vulcão Colima, México. Fonte: <<https://jp-lugaresfantasticos.blogspot.com/2013/07/vulcao-colima-mexico.html>>

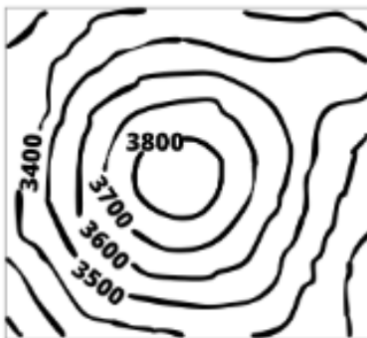
**A**



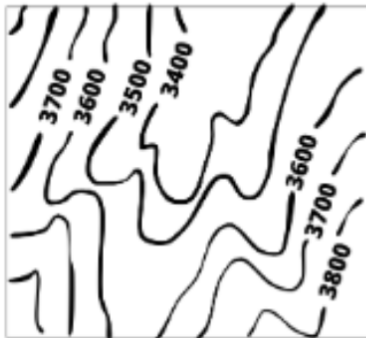
**B**



**C**



**D**



**E**

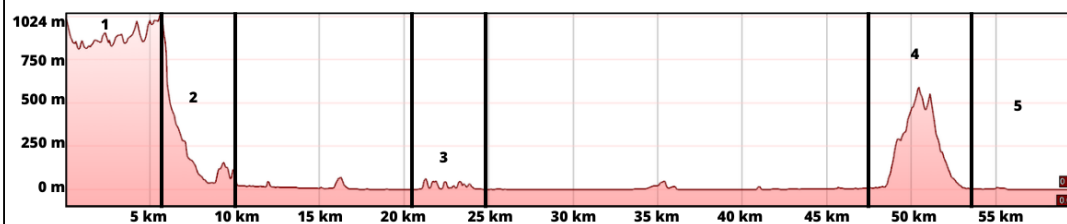
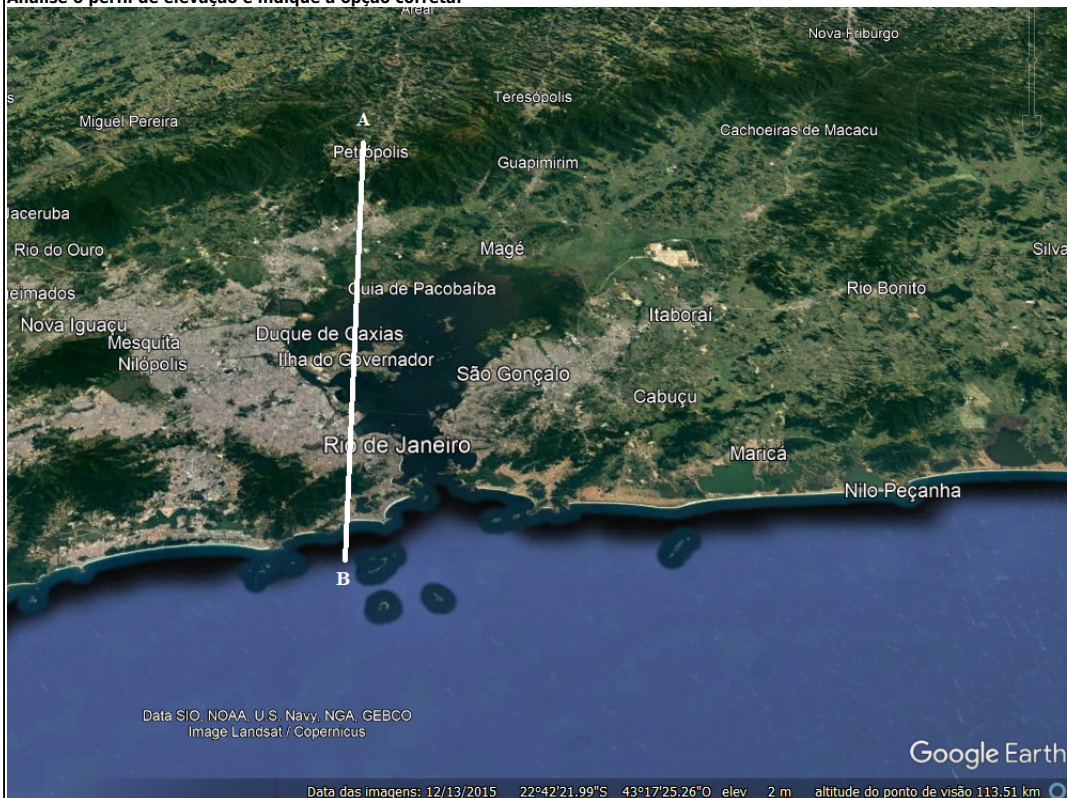


Peso: 1.08

( A )	Curva de nível representada pela letra A.
( B )	Curva de nível representada pela letra B.
( C )	Curva de nível representada pela letra C.
( ✓ D )	Curva de nível representada pela letra D.
( E )	Curva de nível representada pela letra E.

### Geomorfologia

9- Analise o perfil de elevação e indique a opção correta:



Peso: 1.09

( A )	1 = platô; 2 = serra; 3 = morros; 4 = montanha; 5 = depressão periférica.
( ✓ B )	1 = serra; 2 = escarpa; 3 = mares de morros; 4 = inselberg; 5 = planície litorânea.
( C )	1 = serra; 2 = depressão periférica; 3 = inselberg; 4 = morro testemunho; 5 = planície litorânea.
( D )	1 = platô; 2 = planalto; 3 = mares de morros; 4 = inselberg; 5 = depressão periférica.
( E )	1 = serra; 2 = depressão periférica; 3 = morros; 4 = morro testemunho; 5 = planície litorânea.

### Biogeografia

10- O processo descrito na imagem abaixo, representa a formação de qual recurso natural?

The diagram illustrates a process where four elements are combined to form a natural resource. The elements are:
 

- Matéria orgânica (fitoplancton etc)**: Represented by a circle containing green plant-like organisms.
- Alta temperatura**: Represented by a blue circle containing a red thermometer.
- Alta pressão**: Represented by a circle containing a pressure gauge.
- Bactérias anaeróbicas**: Represented by a circle containing several rod-shaped bacteria.

 These four elements are connected by plus signs (+) and followed by an equals sign (=) leading to a circle containing a question mark (?).

Peso: 1.1

(A)	Hídricos (lagos, rios e mares).
(B)	Biológicos (vegetais, animais e florestas).
(C)	Biomassa.
(D)	Carvão mineral.
(✓ E)	Petróleo.
<b>Geografia Urbana</b>	

11-

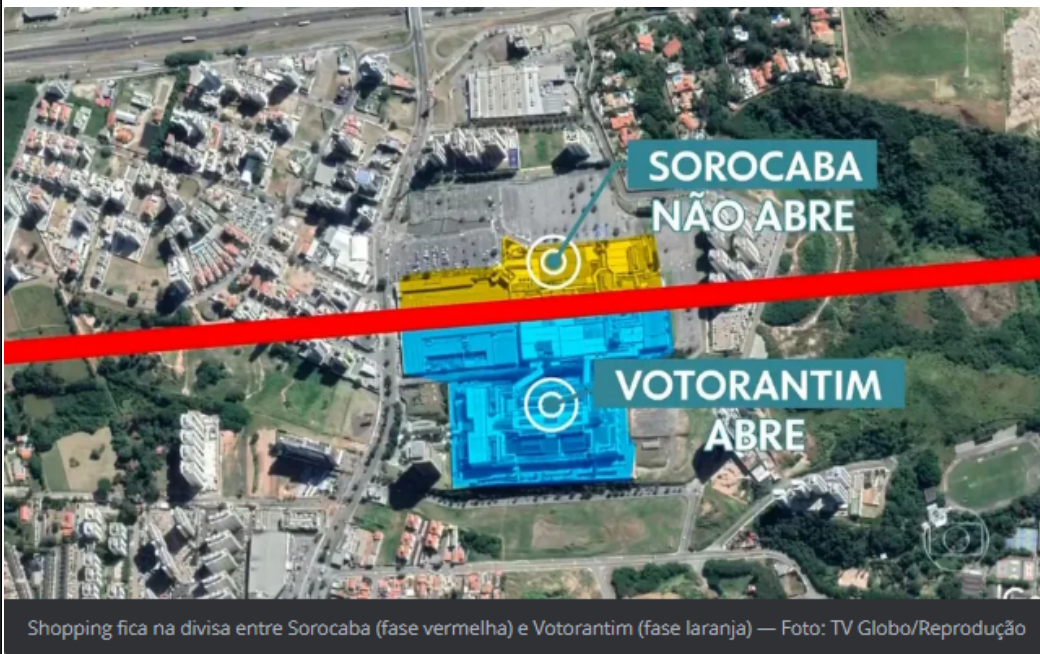
Qual o processo descrito na imagem e reportagem abaixo:

# Shopping entre duas cidades fica 'dividido' entre lojas que podem abrir e outras que precisam ficar fechadas

Enquanto Sorocaba recuou para a fase 1 da flexibilização, que só permite a abertura de comércio essencial, Votorantim continua na fase 2, que libera a abertura de shoppings.

Por G1 Sorocaba e Jundiá

22/06/2020 13h53 · Atualizado há 2 anos



Peso: 1.11

(A) Gentrificação.

(B) Migração pendular.

(✓ C) Conurbação.

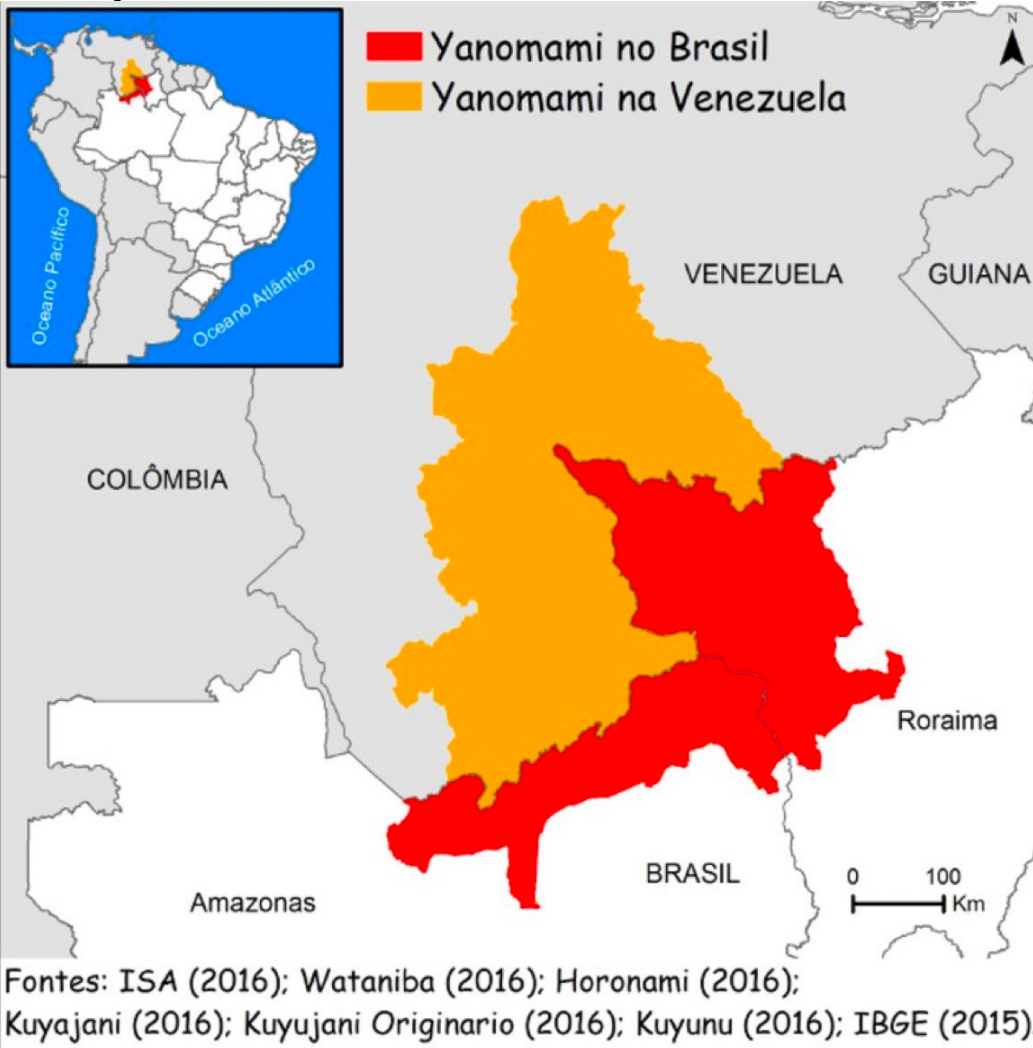
(D) Cidade dormitório.

(E) Êxodo rural.

Geografia Agrária

12-

Observe a imagem abaixo:



Assinale a alternativa que representa a atividade ilegal em curso na imagem acima:

Peso: 1.12

- (A) Importação ilegal de mercadorias, como armas, tabaco, álcool, medicamentos sem licenciamento, bem como produtos falsificados.
- (B) Derrubada de árvores em áreas de floresta sem autorização legal, muitas vezes para a exploração de madeira ou para a conversão de áreas florestais em pastagens ou plantações.
- (C) Captura e comércio de animais silvestres para estimação de exóticos e mercado de produtos de luxo.
- (✓ D) Extração ilegal de ouro em áreas protegidas resultando em danos socioambientais graves, tais como a contaminação dos rios por mercúrio e o desmatamento.
- (E) Captura excessiva de peixes e outros animais aquáticos em áreas proibidas ou sem licença legal para comercialização indevida de espécies da fauna brasileira.

- 13- Analise as alternativas abaixo e escolha a sequência correta, entre verdadeiras (V) e falsas (F), sobre o fenômeno de agravamento da insegurança alimentar no Brasil:
- ( ) Conflitos armados e instabilidade política.
  - ( ) Mudanças climáticas e eventos extremos.
  - ( ) Falta de acesso à água potável.
  - ( ) Excesso de produção de alimentos na região.
  - ( ) Desigualdade socioeconômica e exclusão social

Peso: 1.13

- (A) V-V-V-F-F.
- (✓ B) V-V-V-F-V.
- (C) V-V-F-V-F.
- (D) V-V-F-V-F.

( E )	V-F-V-F-F.
-------	------------

**Conceitos Geográficos**

14-	<p>Meu lugar</p> <p>O meu lugar é caminho de Ogum e Iansã Lá tem samba até de manhã Uma ginga em cada andar</p> <p>O meu lugar É cercado de luta e suor Esperança num mundo melhor E cerveja pra comemorar</p> <p>O meu lugar Tem seus mitos e seres de luz É bem perto de Osvaldo Cruz Cascadura, Vaz Lobo e Irajá</p> <p>O meu lugar É sorriso é paz e prazer O seu nome é doce dizer Madureira, lá laiá Madureira, lá laiá (Compositores: Arlindo Domingos Da Cruz Filho/ José Mauro Diniz) Considerando a categoria analítica Lugar e sua relação com a poética da música de Arlindo Cruz, analise as afirmativas abaixo e assinale a sequência correta: I - A música retrata a relação dos indivíduos com o espaço geográfico, destacando as características físicas do lugar em questão. II - A música aborda a importância do planejamento urbano na construção de espaços e lugares mais justos e inclusivos para que haja o sentimento de pertencimento. III - A música enfatiza a relação afetiva e simbólica dos indivíduos com o seu lugar de pertencimento. IV - A música sugere que o lugar é um conceito dinâmico e diverso na interlocução com os sujeitos.</p>
-----	---

Peso: 1.15

( A )	I, II e III estão corretas.
( B )	I, III e IV estão corretas.
( C )	II e III estão corretas.
( ✓ D )	III e IV estão corretas.
( E )	Somente III está correta.

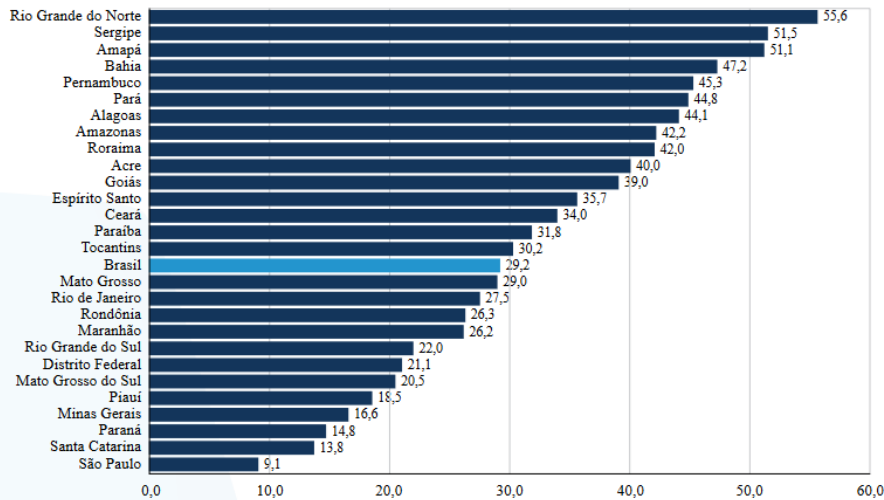
**Interpretação e Análise de Dados**



15- Analise os gráficos abaixo sobre violência racial e assinale a alternativa que apresenta a sequência correta entre afirmativas verdadeiras (V) e falsas (F):

GRÁFICO 6.2

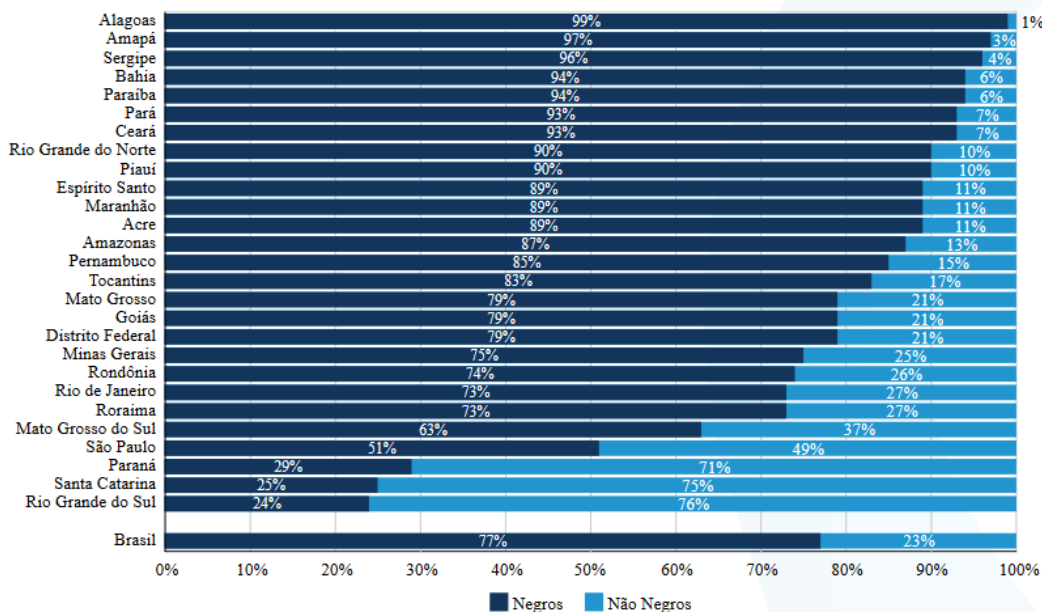
Brasil: Taxa de Homicídios de Negros por UF (2019)



Fonte: IBGE/Diretoria de Pesquisas. Coordenação de População e Indicadores Sociais. Gerência de Estudos e Análises da Dinâmica Demográfica e MS/SVS/CGIAE – Sistema de Informações sobre Mortalidade – SIM. O número de homicídios na UF de residência foi obtido pela soma das seguintes CIDs 10: X85-Y09 e Y35, ou seja: óbitos causados por agressão mais intervenção legal. O número de negros foi obtido somando pardos e pretos. Elaboração: Diest/Ipea, FBSP e IUSN.

GRÁFICO 6.3

Brasil: Proporção de Vítimas de Homicídios por Raça/Cor, por UF (2019)



Fonte: MS/SVS/CGIAE – Sistema de Informações sobre Mortalidade – SIM. O número de homicídios na UF de residência foi obtido pela soma das seguintes CIDs 10: X85-Y09 e Y35, ou seja: óbitos causados por agressão mais intervenção legal. O número de negros foi obtido somando pardos e pretos, enquanto o de não negros se deu pela soma dos brancos, amarelos e indígenas, todos os ignorados não entraram nas contas. Elaboração: Diest/Ipea, FBSP e IUSN.

- I - Em todos os estados brasileiros, um negro tem mais chances de ser morto do que um não - negro.
- II - Alagoas é o estado com maior discrepância entre vítimas de homicídio por critérios de cor e raça.
- III - No estado de São Paulo quase a totalidade das vítimas de violência letal são negras.
- IV - Paraná e Santa Catarina dispuseram de taxa de homicídios de não negros superior à de negros.
- V - Altos níveis de discrepância da violência experimentada por grupos negros podem ser observados também nos estados do Amapá, Paraíba e Sergipe.

Peso: 1.16

(A)	V-F-F-V-V.
(✓ B)	F-V-F-V-V.
(C)	V-V-F-V-V.
(D)	F-F-F-V-F.
(E)	V-V-V-F-F.



**Geografia Cultural**

16- Tendo em vista o panorama apresentado abaixo, considere as afirmações abaixo e assinale a sequência correta entre afirmativas verdadeiras (V) e falsas (F) que melhor descreve a relação entre as manifestações ocorridas em São Paulo (BR) e Santiago (CL):



Foto: Gabriel Schlickmann/ Estadão Conteúdo (2021)




Foto: Martin Bernetti/ El pais (2020)

No dia 24 de julho de 2021, na zona sul de São Paulo, um incêndio atingiu a estátua em homenagem a Borba Gato, bandeirante do século XVII que participou de expedições para explorar o interior do Brasil. Nas redes sociais, o ataque foi relacionado ao papel do bandeirante na caça e escravização de negros e indígenas.

Em março de 2020, na cidade de Santiago (capital do Chile), a estátua do general do exército chileno Manuel Baquedano é pintada completamente de vermelho durante uma intervenção ativista. A figura de Baquedano representa uma época de conquista militar e violência contra povos indígenas e outros grupos chilenos marginalizados.

- ( ) São manifestações isoladas, sem conexão com outras lutas sociais e políticas em nível de América Latina.
- ( ) Refletem a falta de educação e respeito dos manifestantes com a história e a cultura de seus países.
- ( ) A presença de figuras históricas controversas no espaço público expõe a luta por um ambiente mais equitativo e representativo nos centros urbanos.
- ( ) São ações violentas e ilegais reprimidas pelo poder público, por se tratar puramente de atos de vandalismo e destruição do patrimônio público.
- ( ) Representam um movimento extremista e perigoso que ameaça a estabilidade política e social dos países.

Peso: 1

(A) V-V-V-F-V.

(B) F-V-V-F-V.

(✓ C) F-F-V-F-F.

(D) V-V-V-F-F.

(E) V-F-V-F-V.

**Geografia Econômica**

17- Sobre os atributos geográficos do período desenvolvimentista brasileiro, considere as afirmativas abaixo e assinale as afirmativas corretas:  
 I - No contexto de aplicação do denominado Plano de Metas, iniciaram-se políticas em favor da centralização de indústrias no sudeste brasileiro.  
 II - Resultado de uma política regional conservadora das elites brasileiras, a criação da SUDAM e SUDENE contribuem para o aumento das disparidades regionais.  
 III - Entre 1956 e 1961 foram implementadas uma gama de políticas desenvolvimentistas no intuito de aprimorar, dentre outros aspectos, a circulação de bens e mercadorias no país.  
 IV - A quarta fase da industrialização brasileira é marcada pela promoção de incentivos fiscais por parte dos governos estaduais e abertura da economia para o capital estrangeiro.  
 V - Mesmo com o avanço da economia por meio das exportações de commodities agrícolas, a economia brasileira continua sendo impulsionada pelas atividades industriais.

Peso: 1.17

(A) I, II, III estão corretas

(B) I, II, V estão corretas

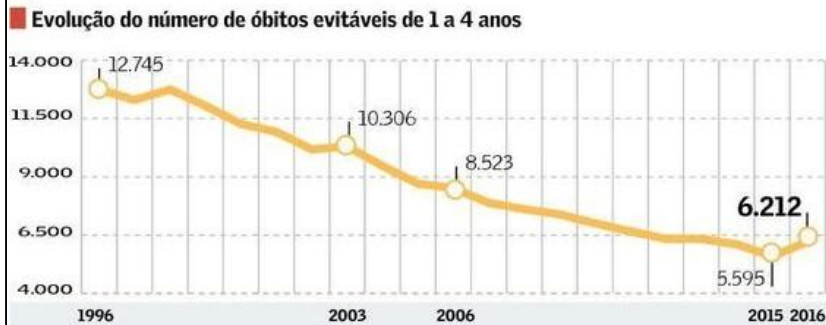
(C) III, IV, V estão corretas

( D ) Somente I e V estão corretas

( ✓ E ) Somente III e IV estão corretas

### Geografia da População

18- Observe o índice representado na figura abaixo:



Fonte: <https://valor.globo.com/brasil/noticia/2018/05/14/crise-estanca-queda-de-mortes-na-infancia.ghtml>  
Interprete-o numa perspectiva malthusiana.

**11%**  
é o aumento do  
número de  
mortos de 2015  
para 2016

Peso: 1.18

( ✓ A ) Um equilíbrio necessário para evitar o crescimento "insustentável" da população.

( B ) Resultado de um problema socioeconômico que deveria ser atenuado pela atuação do Estado.

( C ) Um evento comum apenas às classes operárias residentes, sobretudo nas grandes cidades brasileiras.

( D ) Um problema relacionado à falta de planejamento familiar tanto de casais de baixo, quanto de alto poder aquisitivo.

( E ) Uma consequência das desigualdades socioespaciais da sociedade brasileira, que deveriam ser enfrentadas por políticas de transferência de renda.

19- Leia com atenção os fragmentos textuais abaixo que abordam fenômenos estudados no escopo da Geografia da População:  
I - [...] "denunciou-se a redução da doença e da morte a problemas técnicos: o hospital, seus equipamentos e técnicos aparecem como responsáveis exclusivos por esses momentos. Ao pobre, a especulação imobiliária tornou menos acessível às terras de cemitérios: ocupando ossários coletivos ou exumado, em pouco tempo perde sua própria memória" (DAMIANI, A., 2006, p. 35).  
II - "Surgiram novas causas mortis em número expressivo. Como os suicídios e acidentes entre os jovens que se podem encarar como resposta da sociedade, no limite, à realização desses jovens" (DAMIANI, A., 2006, p. 35).  
III - "Para isso devem contribuir, a partir das migrações políticas ou econômicas, a ampliação da vocação atual para a mistura intercontinental e intranacional dos povos, raças, religiões, gostos, assim como a tendência crescente à aglomeração da população em alguns lugares, essa urbanização concentrada já revelada nos últimos vinte anos (SANTOS, M., 2017 p. 145).  
As variáveis ou elementos da dinâmica demográfica que aparecem nos fragmentos textuais I, II e III são, respectivamente:

Peso: 1.19

( A ) Transição demográfica, crescimento vegetativo e multiculturalismo.

( B ) Mortalidade, expectativa de vida e multiculturalismo.

( C ) Doenças, expectativa de vida e migração.

( D ) Doenças, suicídios e multiculturalismo.

( ✓ E ) Mortalidade, mortalidade e migração.

### Geografia Econômica

20- As mercadorias são parte da vida e do cotidiano de bilhões de pessoas no período atual. Sua análise é parte dos estudos geográficos contemporâneos, sobretudo, na investigação sobre o modo capitalista de produção e seu impacto na vida de consumidores e consumidoras. O estudo sobre as mercadorias ganha centralidade nos estudos das Ciências Humanas a partir dos escritos de Karl Marx no século XIX. De uma maneira geral, considerando o conteúdo desses escritos sobre as mercadorias é correto afirmar que:

Peso: 1

( ANULADA A ) Corresponde ao que é produzido apenas para o consumo próprio e não para ser trocado no mercado.

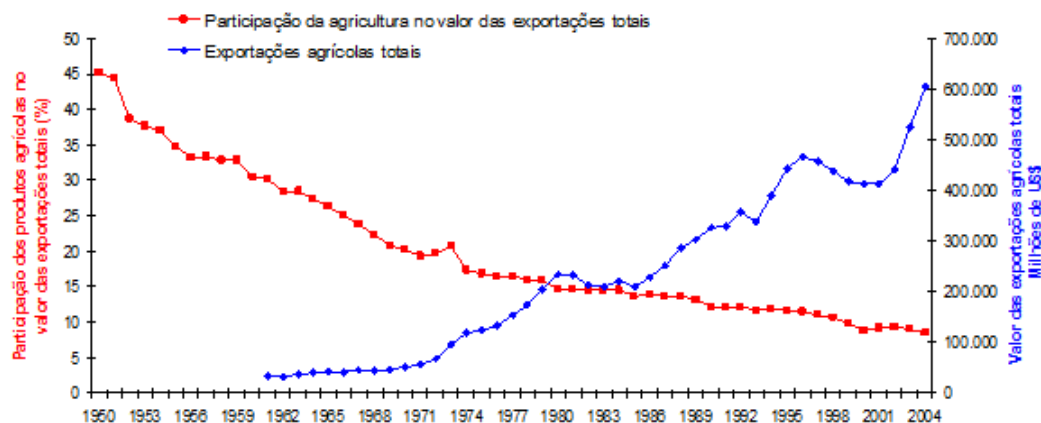
( ANULADA B ) A mercadoria casaco tem o mesmo valor que o linho, pois são objetos de igual substância, embora para se produzir o casaco o trabalhador precise trabalhar mais que o envolvido com a produção do tecido.

( ANULADA C ) Desde que o livro "O capital" foi publicado em 1867, o capitalismo enquanto modo de produção passou por grandes mudanças em sua estrutura. Deste modo, o conceito de mercadoria descrito por Marx não mais se aplica às mercadorias em 2023.

( ANULADA D ) Tem perdido centralidade na sociedade capitalista atual, seja para acumular riqueza, satisfazer as necessidades do "estômago ou da fantasia" ou para intermediar as relações entre as pessoas que produzem, trocam e consomem os produtos do trabalho.

(✓) **ANULADA E)** As mercadorias são capazes de não apenas colocarem homens e mulheres como seus representantes, mas de enlouquecê-los e enlouquecê-las em busca de objetivos mesquinhos, mesmo que isso implique em utilizar meios ilícitos ou a violência.

21- TAREFA - Analise as imagens abaixo e responda as perguntas 21.1 a 21.5.  
Imagem 1 - Agricultura no mercado mundial



Dados: Ministério da Agricultura, FAO e OMC. Org.: Eduardo Paulon Girardi

Imagem 2 - Agronegócio brasileiro em 2006

	Tipo de produção	Área plantada (ha)	% da área total de lavouras	Quantidade exportada (em natura e/ou processada) (ton.)	Valor das exportações (mil US\$)	% no valor das exportações totais*	% no valor das exportações agropecuárias*	% no valor das exportações do agronegócio*	Ranking do Brasil nas exportações mundiais em 2004 (valor)
	Lavoura temporária	55.858.771	89,6	--	--	--	--	--	--
	Lavoura permanente	6.493.925	10,4	--	--	--	--	--	--
	TOTAL lavouras	62.352.696	100	--	--	--	--	--	--
A G R O N E G Ó C I O	Soja	22.082.666	35,4	39.709.701	9.308.112	6,8	18,8	23,3	2º
	Carne	--	--	4.916.388	8.346.452	6,1	16,9	20,9	1º
	Bovina	**	--	1.502.200	3.858.929	2,8	7,8	9,7	--
	Frango	--	--	2.712.959	3.203.414	2,3	6,5	8,0	--
	Suína	--	--	484.217	990.118	0,7	2,0	2,5	--
	Demais carnes	--	--	217.012	293.991	0,2	0,6	0,7	--
	Cana-de-açúcar	6.179.262	9,9	--	7.771.690	5,7	15,7	19,5	--
	Açúcar	--	--	18.870.134	6.166.960	4,5	12,5	15,4	1º
	Alcool	--	--	2.733.244	1.604.730	1,2	3,2	4,0	--
	Madeira, celulose e papel	--	--	14.304.092	7.162.589	5,2	14,5	17,9	--
	Madeira e suas obras	--	--	6.071.550	3.159.304	2,3	6,4	7,9	--
	Celulose	--	--	6.245.734	2.484.043	1,8	5,0	6,2	--
	Papel	--	--	1.986.808	1.519.242	1,1	3,1	3,8	--
	Café	2.331.560	3,7	1.543.368	3.311.339	2,4	6,7	8,3	1º
	Fumo e tabaco	497.899	0,8	577.483	1.730.290	1,3	3,5	4,3	5º
Laranja	813.354	1,3	1.772.042	1.468.748	1,1	3,0	3,7	1º	
Milho	12.997.372	20,8	3.937.999	481.882	0,4	1,0	1,2	4º	
Algodão	911.710	1,5	304.504	338.224	0,2	0,7	0,8	5º	
	TOTAL agronegócio	45.813.823	73,5	--	39.919.326	29,0	80,8	100	--
	*Exportações totais brasileiras (mil US\$)				137.471.000				
	*Exportações agropecuárias brasileiras (mil US\$)				49.423.585				

\*\*Em 2006 a área de pastagem era de 172.333.073 hectares.  
Fonte de dados: Ministério do Desenvolvimento; Ministério da Agricultura e IBGE. Org.: Eduardo Paulon Girardi

Peso: 0

21.10- Analise a Imagem 1 e responda corretamente:

Peso: 1.21

(ANULADA A) Entre o ano de 1971 e 1974 ocorreu um aumento da participação de produtos agrícolas no valor das exportações totais.

(✓) ANULADA B) Entre 1950 e 2004, percebe-se uma elevação do percentual do valor das exportações agrícolas totais.

(ANULADA C) A partir de 1971 observa-se uma diminuição do valor das exportações agrícolas totais.

(ANULADA D) De acordo com o gráfico, o maior valor das exportações agrícolas totais ultrapassa 700.000 milhões de reais.

(ANULADA E) O ano de 1950 demonstra a menor participação dos produtos agrícolas no valor das exportações totais no período analisado.

21.20- De acordo com a Imagem 1 e seus conhecimentos assinale a alternativa correta:

Peso: 1.22	
( A )	Com o aumento do valor das exportações agrícolas totais demonstradas no gráfico, pode-se concluir uma consolidação do agronegócio brasileiro em relação às exportações de produtos agrícolas.
( B )	Conforme a participação dos produtos agrícolas no valor total das exportações diminui, os demais âmbitos agropecuários da economia brasileira também diminuem os níveis de exportação, indicando o avanço industrial no país.
( C )	Com a diminuição do valor das exportações agrícolas totais entre os anos de 1962 e 2004, é possível concluir que o agronegócio brasileiro passou neste período por uma forte crise produtiva.
( ✓ D )	Observa-se um aumento gradativo do valor das exportações agrícolas, enquanto a participação de produtos agrícolas no valor total das exportações diminui, indicando uma possível vulnerabilidade econômica do agronegócio brasileiro.
( E )	O valor das exportações agrícolas totais aumenta exponencialmente enquanto a participação dos produtos agrícolas no valor total das exportações apresenta aumento apenas entre os anos de 1986 e 1992.
21.30- Ao interpretar a Imagem 2, pode-se concluir que:	
Peso: 1.23	
( ✓ A )	De acordo com a tabela, o Brasil ocupa o 2º lugar no ranking de exportação de soja, sendo este o produto com maior área plantada no país.
( B )	A produção de milho no Brasil é maior do que a dos demais produtos agrícolas, entretanto, o país não ocupa o 1º lugar no ranking de exportação deste produto.
( C )	O Brasil ocupa respectivamente o 1º e 2º lugar no ranking mundial da exportação de milho e algodão.
( D )	A quantidade de fumo e tabaco é a segunda menor demonstrada na tabela, ficando acima apenas da produção de algodão.
( E )	A exportação de algodão ocupa um ranking maior do que a exportação de milho, apesar de apresentar um valor de exportações menor.
21.40- Observe a Imagem 2 e assinale a alternativa correta:	
Peso: 1.24	
( A )	A tabela mostra que o valor da exportação de carne no Brasil ultrapassa o valor da exportação de soja.
( B )	Percebe-se que o café ocupa um dos menores valores das exportações analisadas na tabela.
( ✓ C )	De acordo com a tabela, a carne de frango é a mais exportada em toneladas, entretanto, a carne bovina alcança um valor mais elevado nas exportações.
( D )	De acordo com a tabela, a carne suína é mais exportada (em toneladas) do que a carne de frango e alcança o maior valor de exportação de carnes.
( E )	A laranja e o milho possuem valor de exportação similares, entretanto, o milho é exportado em maior quantidade (em toneladas) como mostra a tabela.
21.50- Analise a imagem 2 e responda corretamente:	
Peso: 1.25	
( ✓ A )	De acordo com a tabela, o produto com maior área plantada (ha) é também o que apresenta maior quantidade exportada em toneladas.
( B )	De acordo com a tabela, a área plantada (ha) de cana-de-açúcar é a maior e ocupa o maior valor das exportações.
( C )	A área plantada (ha) de milho é a segunda maior da tabela analisada e ocupa um dos maiores valores percentuais das exportações agropecuárias.
( D )	A tabela não apresenta a informação sobre a área plantada de madeira, celulose e papel pois não atinge níveis significativos de produção para análise.
( E )	A área plantada (ha) de algodão apresentada na tabela é significativamente maior do que a de café, e ocupa um dos melhores rankings de exportação mundial.

**Total Pontos: 25.7**